

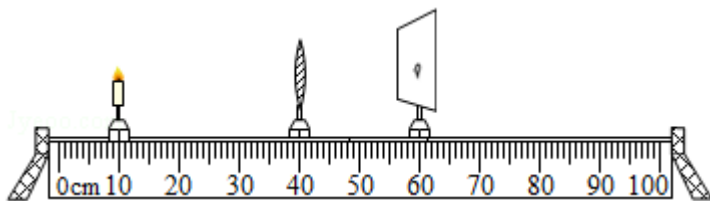
2016 年深圳市中考物理试卷

一、选择题（共 16 小题，每小题 1.5 分，共 24 分。在每小题给出的 4 个选项中，只有一项符合题目要求。）

1. 下列属于光的直线传播的是（ ）

- A. 患近视的同学佩戴凹透镜 B. 深圳湾大桥在海面形成倒影
C. 太阳光透过三棱镜形成彩色光带 D. 太阳光透过树叶缝隙形成圆形光斑

2. 下面的光学设备中，利用了图中原理的是（ ）

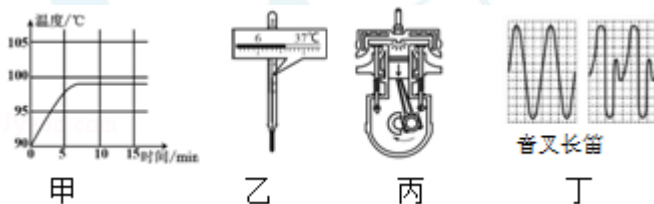


- A. 投影仪 B. 放大镜 C. 照相机 D. 潜望镜

3. 以下说法中正确的是（ ）

- A. 相同质量的两杯水，温度高的含有的热量多
B. 冬天晒太阳使身体变暖，这是通过热传递的方式增加了内能
C. 酒精灯中的酒精燃烧一半后，剩余酒精的质量和热值都减小一半
D. 去年冬天，深圳下起了小雪，雪花熔化时要放热

4. 对如图描述正确的是（ ）



- A. 甲：水在沸腾过程中继续吸热，温度不变
B. 乙：体温计读数为 6.6℃
C. 丙：内燃机在此冲程中，把机械能转化为内能
D. 丁：音叉和长笛的音调、响度、音色均相同

5. 深圳生产的手机行销世界各国。关于手机的说法中正确的是（ ）

- A. 对手机充电时，化学能转化为电能

深圳思问教育

园岭校区：福田区红荔路1068号荔湖花苑2楼右侧
0755-82574615
景田校区：福田区景田路68号景田综合市场2楼
0755-83208110



获取更多资料

官网：www.szsiwen.com

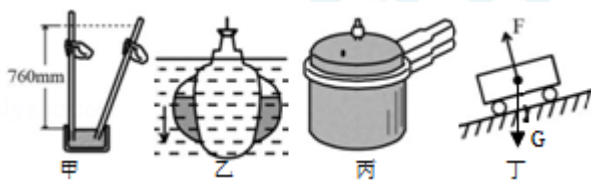
咨询热线：400-186-5643

思小问QQ：1151219334(加好友快速入QQ群)

思小问微信：19926414053(加好友入微信群)

8人小组课，1对1培优，精品小班

- B. 手机是通过捕获超声波得到外界信息的
- C. 手机听筒的膜片振动产生声音
- D. 手机铃声可以在真空中传播
6. 中国女排在 2015 年世界杯赛场上重夺冠军。有关排球运动说法中错误的是 ()
- A. 击球时, 手对排球的作用力与排球对手的作用力是相互作用力
- B. 忽略空气阻力时, 空中飞行的排球只受重力作用
- C. 扣球时排球反方向飞出, 这说明力能改变物体的运动状态
- D. 运动员双脚站立时比奔跑时对地面的压强大
7. 深圳已进入地铁时代, 大大提高了出行效率。以下说法中正确的是 ()
- A. 列车行驶的速度越大, 惯性越大
- B. 列车上坡时重力势能增大, 下坡时重力势能减小
- C. 列车进站时动能增大, 出站时动能减小
- D. 人必须站在安全线以外的区域候车, 这是因为空气流速越大, 压强越大
8. 以下描述合理的是 ()



- A. 甲: 托里拆利实验测量出的标准大气压值为 7.6 cm 水银柱
- B. 乙: 潜水艇在下潜过程中所受的浮力减小
- C. 丙: 高压锅内气压大, 水的沸点高
- D. 丁: 匀速下坡的小车只受到重力和支持力的作用
9. 深圳大疆新推出的“精灵 4”无人机具有自动返航功能。下列说法中正确的是 ()
- A. 无人机匀速上升时, 动能转化为重力势能, 机械能守恒
- B. 无人机停在地面时, 它受到的重力与它对地面的压力是一对平衡力
- C. 无人机自动返航时, 以地面为参照物它是运动的
- D. 无人机做功的功率越大, 机械效率就越高

深圳思问教育

园岭校区: 福田区红荔路1068号荔湖花园2楼右侧
0755-82574615
景田校区: 福田区景田路68号景田综合市场2楼
0755-83208110



获取更多资料

官网: www.szsiwen.com

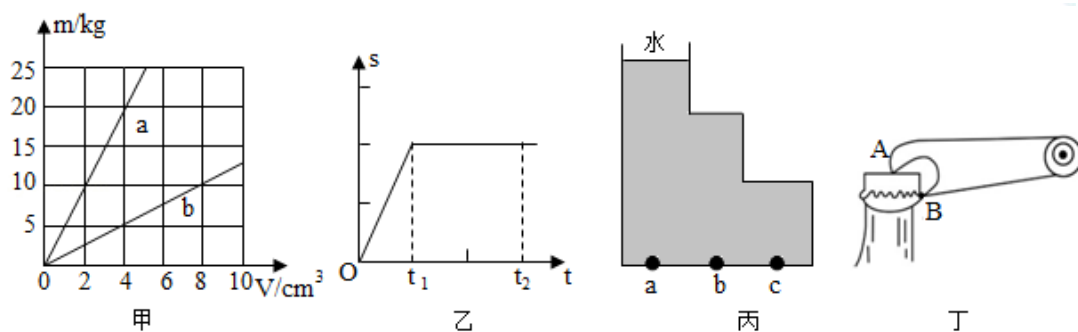
咨询热线: 400-186-5643

思小问QQ: 1151219334(加好友快速入QQ群)

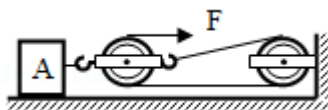
思小问微信: 19926414053(加好友入微信群)

8人小组课, 1对1培优, 精品小班

10. 以下分析不合理的是 ()



- A. 甲: a 物质的密度大于 b 物质的密度
B. 乙: 在 $t_1 \sim t_2$ 时间内, 物体做匀速直线运动
C. 丙: 比较 a 、 b 、 c 三点的液体压强: $p_a = p_b = p_c$
D. 丁: 开瓶器是省力杠杆
11. 用如图所示的滑轮组拉动水平地面上重 $1000N$ 的物体 A , 使物体 A 在 $4s$ 内匀速前进了 $4m$, 物体 A 受到地面的摩擦力 $f=300N$, 所用拉力 $F=120N$, 忽略绳重、滑轮重及绳与滑轮间的摩擦。下列说法中正确的是 ()



- A. 绳子自由端在 $4s$ 内移动了 $8m$
B. 物体 A 重力做功的功率为 $1000W$
C. 物体 A 克服摩擦力做的功为 $480J$
D. 滑轮组的机械效率约为 83.3%
12. 以下说法中正确的是 ()
- A. 法拉第发现了电磁感应现象
B. 为了纪念牛顿对物理学的重大贡献, 用他的名字作为功的单位
C. 当发现有人触电时, 应立即用手把人拉开
D. 一般家用空调正常工作时的电功率约为 $0.1kW$
13. 在“探究影响导体电阻大小的因素”实验中, 要研究导体电阻大小与其长度的关系, 可以选用表格中的导体代号是 ()

导体代号	长度/m	横截面积/ mm^2	材料
a	1.0	0.3	锰铜

深圳思问教育

园岭校区: 福田区红荔路1068号荔湖花园2楼右侧
0755-82574615
景田校区: 福田区景田路68号景田综合市场2楼
0755-83208110



获取更多资料

官网: www.szsiwen.com

咨询热线: 400-186-5643

思小问QQ: 1151219334(加好友快速入QQ群)

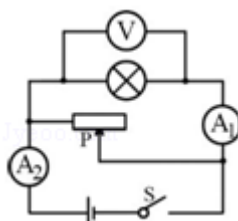
思小问微信: 19926414053(加好友入微信群)

8人小组课, 1对1培优, 精品小班

b	1.0	0.6	锰铜
c	0.5	0.6	锰铜
d	1.0	0.6	镍铬合金

- A. a、b B. b、c C. b、d D. a、d

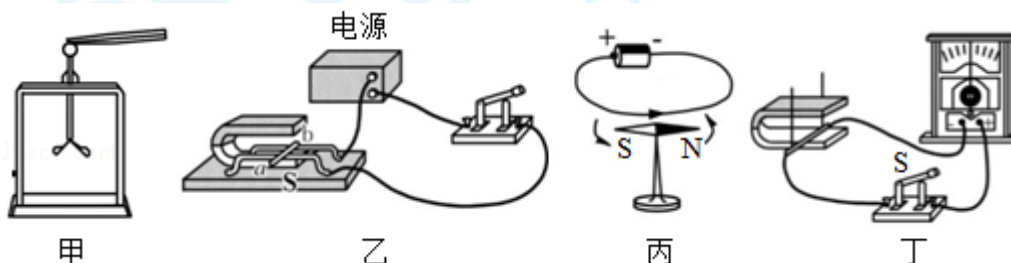
14. 如图所示，电源电压不变，闭合开关 S，将滑动变阻器的滑片 P 向左移动的过程中，下



列说法中正确的是 ()

- A. 小灯泡变亮，电压表 \textcircled{V} 示数变大
B. 小灯泡变暗，电压表 \textcircled{V} 示数不变
C. 电流表 $\textcircled{A_1}$ 示数不变，电流表 $\textcircled{A_2}$ 示数变大
D. 电流表 $\textcircled{A_1}$ 示数变大，电流表 $\textcircled{A_2}$ 示数变大

15. 对下列实验描述正确的是 ()



- A. 甲：验电器的两片金属箔带同种电荷，由于互相排斥而张开
B. 乙：通电导线在磁场中受到力的作用，这是发电机的原理
C. 丙：奥斯特实验说明磁能生电
D. 丁：闭合开关，只要金属棒运动，电路中就有感应电流产生

深圳思问教育

园岭校区：福田区红荔路1068号荔湖花园2楼右侧
0755-82574615
景田校区：福田区景田路68号景田综合市场2楼
0755-83208110



获取更多资料

官网：www.szsiwen.com

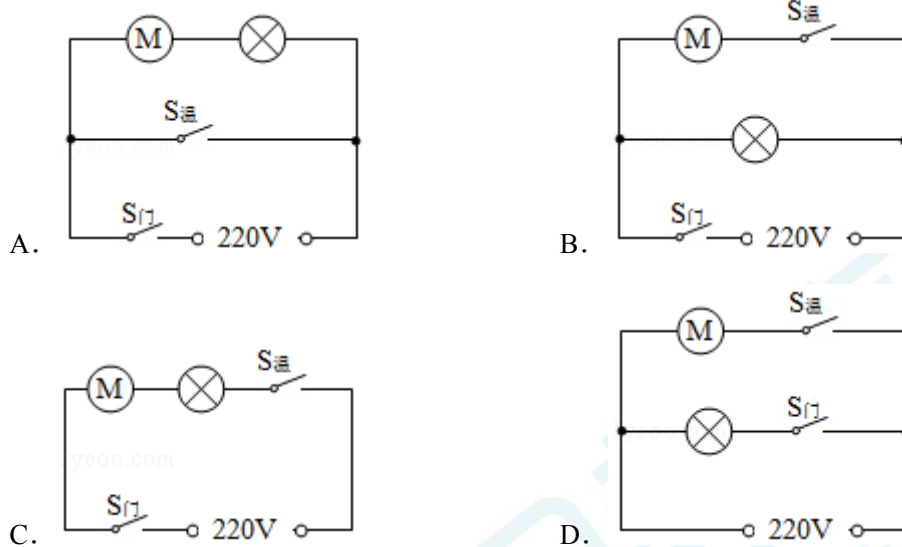
咨询热线：400-186-5643

思小问QQ：1151219334(加好友快速入QQ群)

思小问微信：19926414053(加好友入微信群)

8人小组课，1对1培优，精品小班

16. 家用冰箱内的温度高低由温控开关 $S_{\text{温}}$ 控制，当冰箱内温度高于设定值时， $S_{\text{温}}$ 将自动闭合，压缩机 $\textcircled{\text{M}}$ 开始工作；当冰箱门打开时，开关 $S_{\text{门}}$ 闭合，照明灯发光。下列电路符合要求的是（ ）



二、非选择题（本部分共 5 小题，共 36 分。请将答案写在答题卡相应位置上）

17. 某校创办了“创客社团”，该社团的同学开展了如下四个探究活动：

（1）探究一：探究运动和力的关系（如图 1）

- ①怎样控制小车运动到不同水平面上的速度相同呢？方法是：让同一辆小车从同一斜面的_____处静止滑下。
- ②怎样反映力对物体运动的影响呢？同学们采用了转换法，即用小车在平面上运动的距离远近来反映力对运动的影响大小。且通过比较还可表明：压力相同时，接触面_____，摩擦力越大。
- ③实验结果证明_____（选填“A”、“B”）。
 - A. 力是维持物体运动状态的原因
 - B. 力可以改变物体的运动状态
- ④怎样得到小车不受力作用时的运动状态呢？必须用到实验推理法，即：如果小车运动时不受外力的作用，小车将保持_____状态。

（2）探究二：探究浮力的大小跟排开液体所受重力的关系

深圳思问教育

园岭校区：福田区红荔路1068号荔湖花园2楼右侧
0755-82574615
景田校区：福田区景田路68号景田综合市场2楼
0755-83208110



获取更多资料

官网：www.szsiwen.com

咨询热线：400-186-5643

思小问QQ：1151219334(加好友快速入QQ群)

思小问微信：19926414053(加好友入微信群)

8人小组课，1对1培优，精品小班

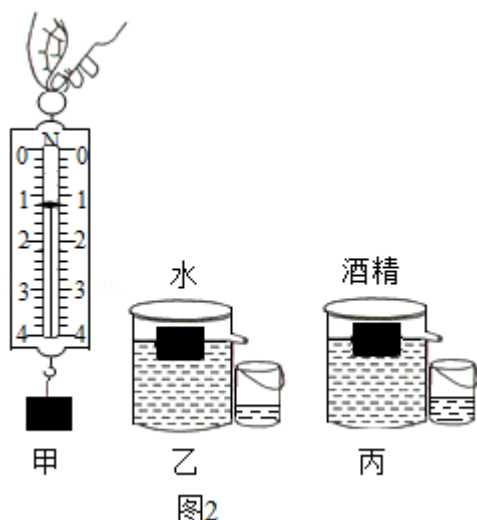


图2

- ①由图 2 甲图可知，物体所受重力为_____N。
- ②把该物体放入装满水的溢水杯中，物体处于漂浮状态，如图 2 乙图，此时小烧杯接到水的质量为_____kg (g 取 10N/kg)。
- ③把另一个完全相同的物体放入装满酒精的溢水杯中，物体处于漂浮状态，如图丙，实验发现，此时物体排开酒精的质量_____乙图中排开水的质量（选填“大于”、“小于”、“等于”）。

(3) 探究三：探究电流与电压的关系

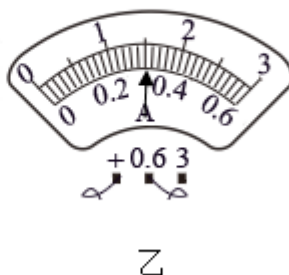
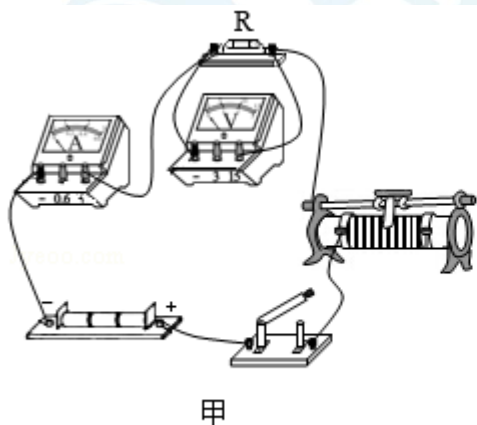


图 3

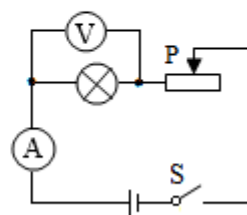


图 4

- ①按图 3 甲图连接好电路，闭合开关前，要把滑动变阻器的滑片移到_____端（选填“A”、“B”）。
- ②闭合开关，保持定值电阻 $R=10\Omega$ 不变，调节滑动变阻器，表格中空格处的电流值如

深圳思问教育

园岭校区：福田区红荔路1068号荔湖花苑2楼右侧
0755-82574615
景田校区：福田区景田路68号景田综合市场2楼
0755-83208110



获取更多资料

官网：www.szsiwen.com

咨询热线：400-186-5643

思小问QQ：1151219334(加好友快速入QQ群)

思小问微信：19926414053 (加好友入微信群)

8人小组课，1对1培优，精品小班

图3乙图所示,此时电流表示数为_____A。

③分析表格中的实验数据,可得到的结论是:当导体的电阻一定时,通过导体的电流与导体两端的电压成_____ (选填“正比”、“反比”)。

实验序号	电压 U	电流 I
1	2V	0.2A
2	3V	
3	4V	0.4A

(4) 探究四:测定小灯泡的额定电功率

实验电路如图4所示,电源电压恒为6V,已知实验使用的特制小灯泡的额定电压为3.5V,其电阻大小保持不变。

①该实验的原理是_____ (用公式表示)。

②在测定小灯泡的额定电功率时,应选用电压表的量程_____来测量小灯泡两端的电压 (选填“0~3V”、“0~15V”)。

③在正确连接电路后,闭合开关,发现小灯泡发光,电压表无示数,电流表有示数,该电路故障是电压表_____ (选填“短路”、“断路”)。

④经检查发现,电压表选用的量程已损坏,而另一量程完好,某同学灵机一动:将电压表并联在变阻器的两端,调节滑动变阻器滑片至某一位置,读出电压表示数为2.8V,电流表示数为0.32A,也完成了实验,则小灯泡的额定功率为_____W。

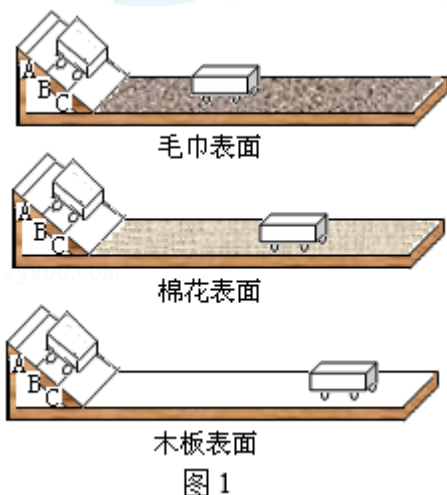


图 1

深圳思问教育

园岭校区:福田区红荔路1068号荔湖花苑2楼右侧
0755-82574615
景田校区:福田区景田路68号景田综合市场2楼
0755-83208110



获取更多资料

官网: www.szsiwen.com

咨询热线: 400-186-5643

思小问QQ: 1151219334(加好友快速入QQ群)

思小问微信: 19926414053(加好友入微信群)

8人小组课, 1对1培优, 精品小班

18. “长鼻子”校车已在深圳投入使用，如图所示，校车的质量为 3.2t ，轮胎与地面接触的总面积为 0.08m^2 ，校车在水平路面上以 36km/h 的速度匀速行驶，此时校车所受的阻力为车重的 0.02 倍（ g 取 10N/kg ）。求：

- (1) 校车在 0.5h 内行驶的路程。
- (2) 校车静止时对地面的压强。
- (3) 校车行驶时牵引力做功的功率。



深圳思问教育

园岭校区：福田区红荔路1068号荔湖花苑2楼右侧
0755-82574615
景田校区：福田区景田路68号景田综合市场2楼
0755-83208110



获取更多资料

官网：www.szsiwen.com

咨询热线：400-186-5643

思小问QQ：1151219334(加好友快速入QQ群)

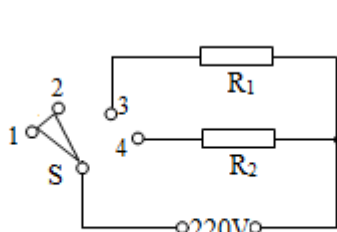
思小问微信：19926414053(加好友入微信群)

8人小组课，1对1培优，精品小班

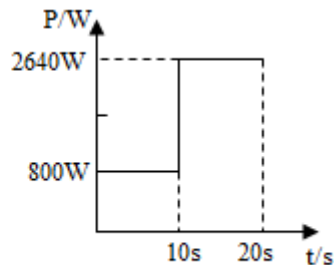
19. 小明家安装了电热水龙头如甲图，其简化电路如乙图， R_1 、 R_2 为电热丝，通过调节旋钮可使扇形开关 S 同时接触两个相邻的触点，从而实现冷水、温水、热水档之间的切换。某次使用电热水龙头的过程中，水龙头的功率随时间的变化关系如丙图所示。



甲



乙



丙

- (1) 当开关同时接触 3、4 触点时，水龙头放出的是_____（选填“冷水”、“温水”或“热水”）。
- (2) 求电热丝 R_1 工作时的电阻大小。
- (3) 求该次使用过程中水龙头消耗的总电能。

深圳思问教育

园岭校区：福田区红荔路1068号荔湖花苑2楼右侧

0755-82574615

景田校区：福田区景田路68号景田综合市场2楼

0755-83208110



获取更多资料

官网：www.szsiwen.com

咨询热线：400-186-5643

思小问QQ：1151219334(加好友快速入QQ群)

思小问微信：19926414053 (加好友入微信群)

8人小组课，1对1培优，精品小班

20. 综合开放题

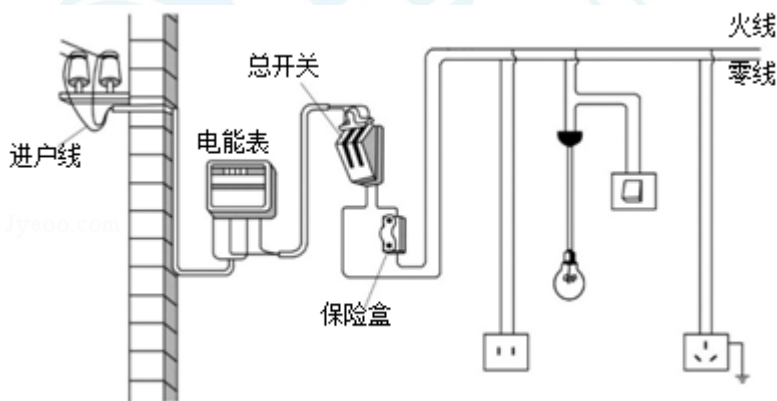
我国古诗词语言优美、寓意深远，同时古诗词中还蕴含着丰富的物理学知识，请你模仿样例格式，从以下两首 古诗词原文中摘抄出涉及到物理学知识的内容，并写出相应的物理知识或规律填入下表（温馨提示：至少写出二条，不能与样例相同）。

枫桥夜泊
唐·张继
月落乌啼霜满天，
江枫渔火对愁眠。
姑苏城外寒山寺，
夜半钟声到客船。

早发白帝城
唐·李白
朝辞白帝彩云间，
千里江陵一日还。
两岸猿声啼不住，
轻舟已过万重山。

序号	古诗词原文	物理知识或规律
样例	月落	以地面为参照物，月亮是运动的
1	_____	_____
2	_____	_____

21. 如图是我们常见的家庭电路。请你模仿样例格式，写出图中涉及到的电学知识或规律（温馨提示：至少写出三条，不能与样例相同）。



样例：电灯与插座并联。

- ① _____；
- ② _____；
- ③ _____。

深圳思问教育

园岭校区：福田区红荔路1068号荔湖花苑2楼右侧
0755-82574615
景田校区：福田区景田路68号景田综合市场2楼
0755-83208110



获取更多资料

官网：www.szsiwen.com

咨询热线：400-186-5643

思小问QQ：1151219334(加好友快速入QQ群)

思小问微信：19926414053(加好友入微信群)

8人小组课，1对1培优，精品小班